

Nom : .....

Classe de 11<sup>e</sup> – Section : .....




Numéro dans la liste	.....
----------------------	-------

Mathématiques

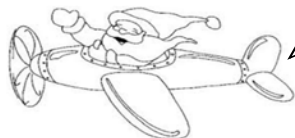
1- Complète par les nombres manquants.

.....	1	.....	.....	4	.....	.....	.....
-------	---	-------	-------	---	-------	-------	-------

2- Dessine les objets qui manquent puis complète l'addition.

6		$4 + \dots = 6$
8		$3 + \dots = 8$
10		$1 + \dots = 10$

3- Colorie les égalités de 8 en jaune, les égalités de 9 en rouge et les égalités de 10 en vert.



5 + 5

3 + 5

4 + 4

8 + 2

7 + 3

2 + 7


0 + 9

4 + 5

0 + 10

4- Combien de bûches reste-t-il?

Observe le dessin puis colorie l'étiquette convenable.



$$6 + 2$$

$$4 + 2$$

$$6 - 2$$

Complète la phrase.

– Il reste ..... bûches.

5- Combien de cloches Tania possède-t-elle?



Egalité:.....

Tania possède ..... cloches.